

第五单元综合测试卷

(时间：60分钟 分数：100分)

得分：_____

线 一、我会填。(每空 1 分,共 20 分)

1. 量一支铅笔的长度通常用()作单位,量一棵大树的高度通常用()作单位。
2. 1 米=()厘米 400 厘米=()米
- 3 米=()厘米 1 米 20 厘米=()厘米
3. 在括号里填上合适的单位名称。

①考生要写清校名、姓名和班级
②不在试卷上做任何标识
③字迹要清楚,卷面要整洁

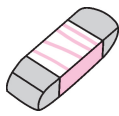

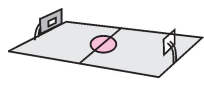
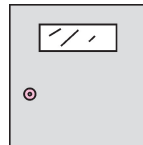


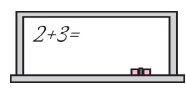

注意

姓 名

班 级

学 校

考 号

 橡皮擦 长约 4()	 房子宽 约 5()	 篮球场长 约 28()	 门高 约 2()
 杯子高 约 9()	 旗杆高 约 15()	 黑板宽 约 1()	 粉笔长 约 8()

4. 在○里填“>”“<”或“=”。

200 厘米○2 米


5 厘米○5 米

4 米○40 厘米





1 米○60 厘米

40 厘米○37 厘米

99 厘米○1 米



二、下面的测量方法正确吗？在正确的方框里画“√”。(8 分)




三、下面的图形哪些是线段？是线段的在括号里画“√”，不是的画“×”。(6 分)



()



()



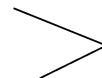
()



()



()



()

四、我会选。(将正确答案的序号填入括号里)(10 分)

1. 是一条()。

①曲线

②线段

③直线

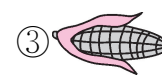
2. 学生尺上从刻度“1”画到刻度“9”是()厘米。

①10

②9

③8

3. 长约 20 厘米的东西是()。



4. 1 米和 100 厘米长的绳子相比,()。

①1 米长的绳子长

②100 厘米长的绳子长

③一样长

5. (合肥市蜀山区)量篮球场的长和宽时,可以用“身体尺”()测量。

①一拃

②一度

③一步

五、我会算。(6 分)

27 厘米 + 9 厘米 = () 厘米

13 厘米 + 2 厘米 = () 厘米

15 米 - 10 米 = () 厘米

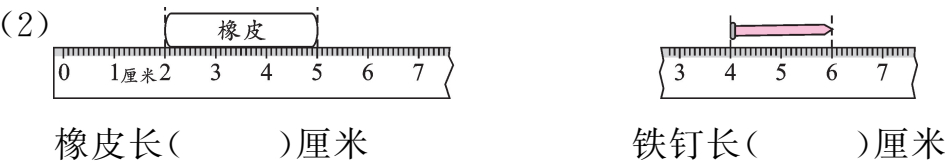
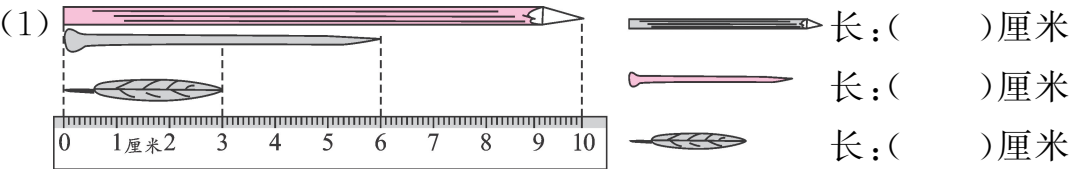
40 米 - 16 米 = () 米

1 米 - 90 厘米 = () 厘米

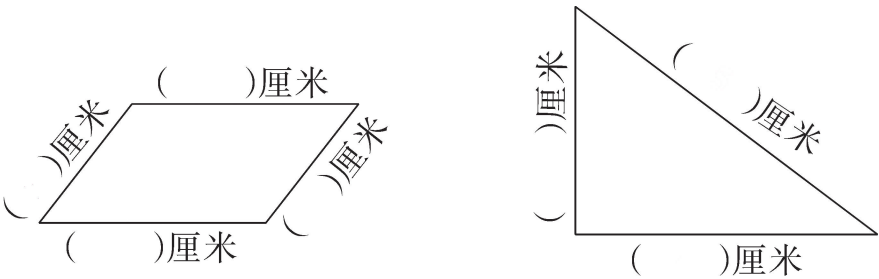
2 米 + 45 厘米 = () 厘米

六、量一量,填一填,画一画。(共 26 分)

1. 填一填。(10 分)




2. 量一量,填一填。(7 分)



3. 画一画。(9 分)


- (1)画一条 6 厘米的线段。
- (2)画一条比 5 厘米长 2 厘米的线段。
- (3)在下面每两点之间画一条线段,一共能画()条。



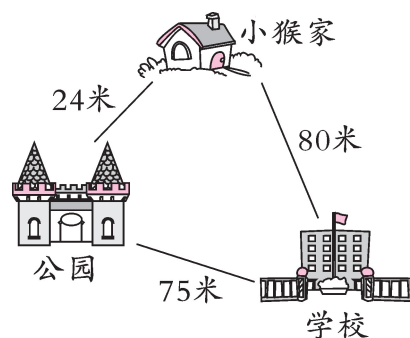
七、解决问题。(共 24 分)

1. 一根攀岩的绳子长 36 米,一根消防救生绳比攀岩绳子长 6 米。这根消防救生绳长多少米?(5 分)

2. 如右图所示,妮妮再长多高就是 1 米?(5 分)



3. (蚌埠市蚌山区)小猴从学校回家有两条路走,哪一条路要近一些?(5 分)



4. (9 分)

